


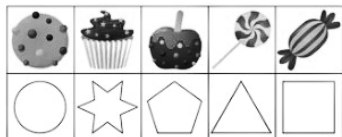


итальянский ресторан



## ДЕТСКОЕ МЕНЮ



**Куриный суп**  
с дымным цыпленком

300 гр / 270

**Сырная паста**

230 гр / 290

**Нагетсы**  
с картофелем фри

265 гр / 380

**Куриный шашлычок**  
с картофельным пюре

130 гр / 270

**Сырники с конфитюром**  
и сметаной




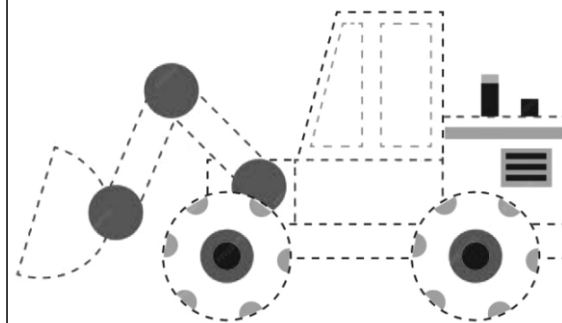
175 гр / 270

**Пицца «Сырная курочка»**  
с куриным филе и сырным соусом


330 гр / 590

**Мороженое**


80 гр / 220



\*Является специальным предложением для гостей младше 12 лет.



Раскрась



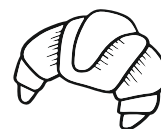

Найди 24 слова.

Слова могут располагаться по горизонтали, вертикали и диагонали и в обратном порядке.

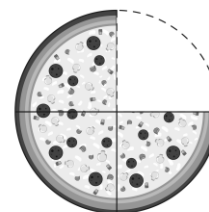
П А С Т А С П А Г Е Т Т И  
 Е П А Р М Е З А Н Ы Ч Е С  
 Ч Ь Л А З А Н Ь Я О Л К О  
 Ь Б О Л О Н Ь Е З Е В Р Л  
 Т О М А Т С О У С Т А А Б  
 О О Л И В К И М Р Е А Р А  
 С Л Ь П Е Р Е Ц Г И И К З  
 Т В Е Т Ч И Н А У Ш Л А И  
 О К У К У Р У З А С Ы И Л  
 П Ь Й А Н А Н А С М Р О К  
 О В А Р Т Е Л О К А Р А А  
 В А Р Ы С О Л Ь П А С Т С  
 А Р М О Ц А Р Е Л Л А Ы А  
 Р Ч Е Г Р И Б Ы П И Ц Ц А  
 Ы С Ы Р К О Л Б А С А В А

Покажи пять квадратов.

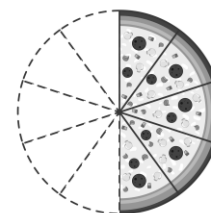
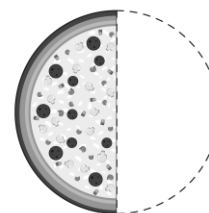
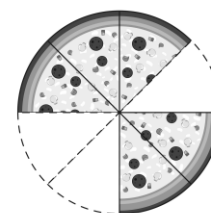
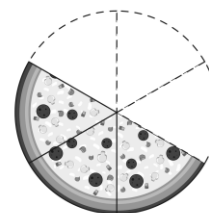
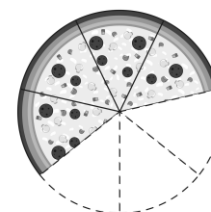
Как убрать две спички, чтобы осталось три квадрата? А чтобы осталось два квадрата?



Напиши верное значение



$\frac{3}{4}$



Сосчитай

=   
 =   
 =   
 =   
 =

